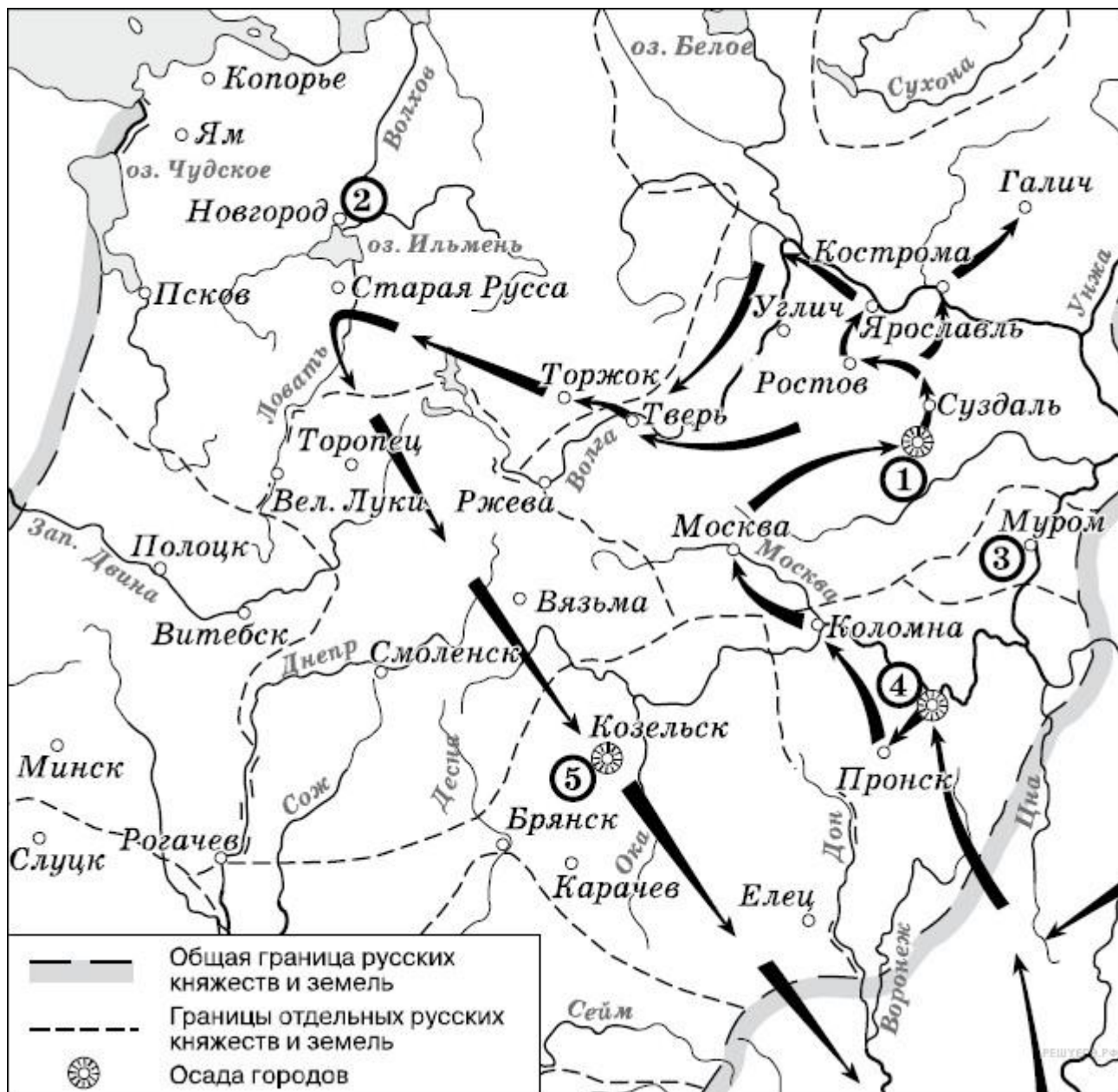


Задания В8-В11. Анализ исторических карт, схем  
№1

Рассмотрите схему и выполните задания



1. Напишите имя полководца, осуществившего поход, обозначенный на схеме стрелками.

2. Напишите название города, обозначенного на схеме цифрой «1».

3. Напишите цифру, которой обозначена столица земли, где в период данного похода существовала республиканская форма правления.

4. Какие суждения, относящиеся к событиям, обозначенным на схеме, являются верными? Выберите три суждения из шести предложенных.

1) завоеватели вторглись в пределы Руси в зимний период

2) ни один из городов, захваченных завоевателями, не выдержал осады более одной недели

- 3) поход, обозначенный на схеме стрелками, длился около трёх лет
- 4) одним из последствий событий, обозначенных на схеме, было начало раздробленности Древнерусского государства
- 5) в результате событий, обозначенных на схеме, русские земли попали в зависимость
- 6) полководец, поход которого обозначен на схеме, является основателем государства

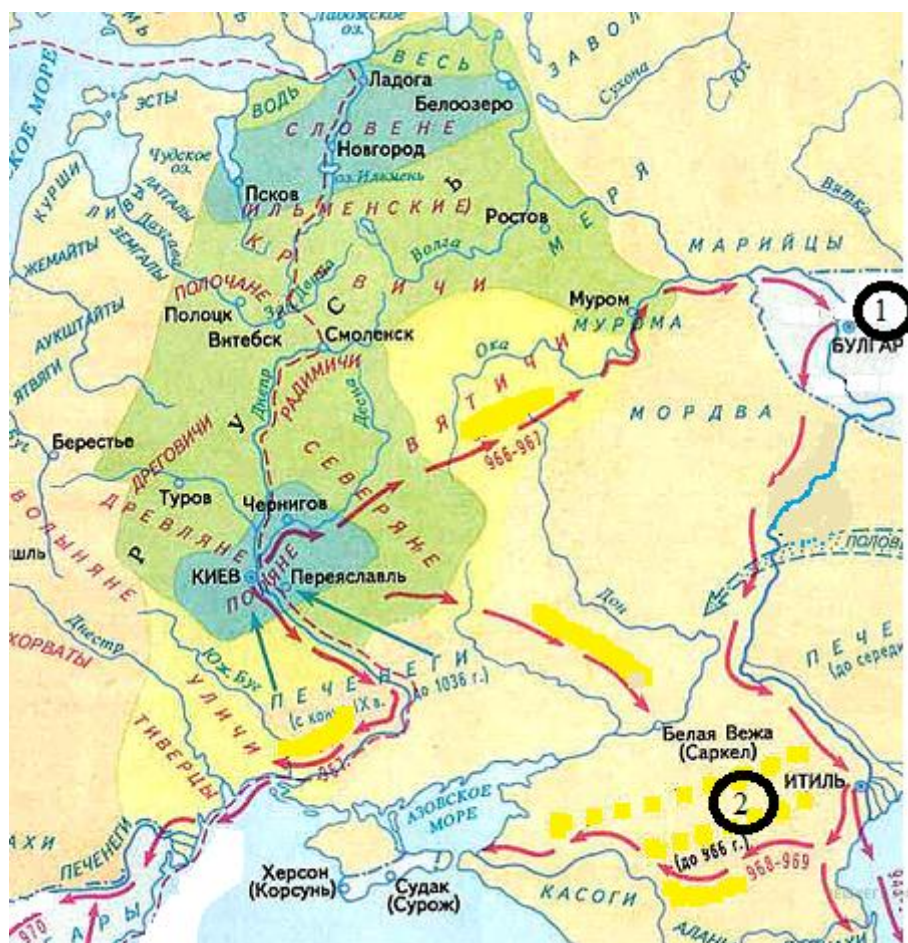
## №2

Рассмотрите схему и выполните задания



1. Как называл летописец Нестор древний речной путь, обозначенный на схеме цифрой «1».
2. Напишите название древнего речного пути, обозначенного на схеме цифрой «2».
3. В какой город, расположенный на берегу проливов, соединяющих Чёрное и Средиземное моря, стремились купцы из Скандинавии?
4. Какие суждения, относящиеся к обозначенным на схеме древним речным путям, являются верными. Выберите три суждения из шести предложенных. Запишите в таблицу цифры, под которыми они указаны.
  - 1) из Византии в государства Скандинавии купцы везли мёд, воск, пеньку
  - 2) одной из причин окончательного упадка торгового пути из Балтийского моря в Чёрное стал захват монголо-татарами нижнего и среднего Поднепровья в XIII в.
  - 3) торговый путь из Балтийского моря в Чёрное был ликвидирован после захвата турками столицы Византии в середине XV в.
  - 4) между Западной Двиной и Днепром торговые суда перетаскивались волоком
  - 5) одним из государств, контролировавшим торговлю на пути из Балтийского в Каспийское море до конца 60-х гг. X в. была Хазария (Хазарский каганат)
  - 6) князь Олег заключил выгодный торговый договор между Русью и Византией в середине IX в.

Рассмотрите схему и выполните задание



1. Назовите имя великого Киевского князя, чьи завоевательные походы указаны стрелками.

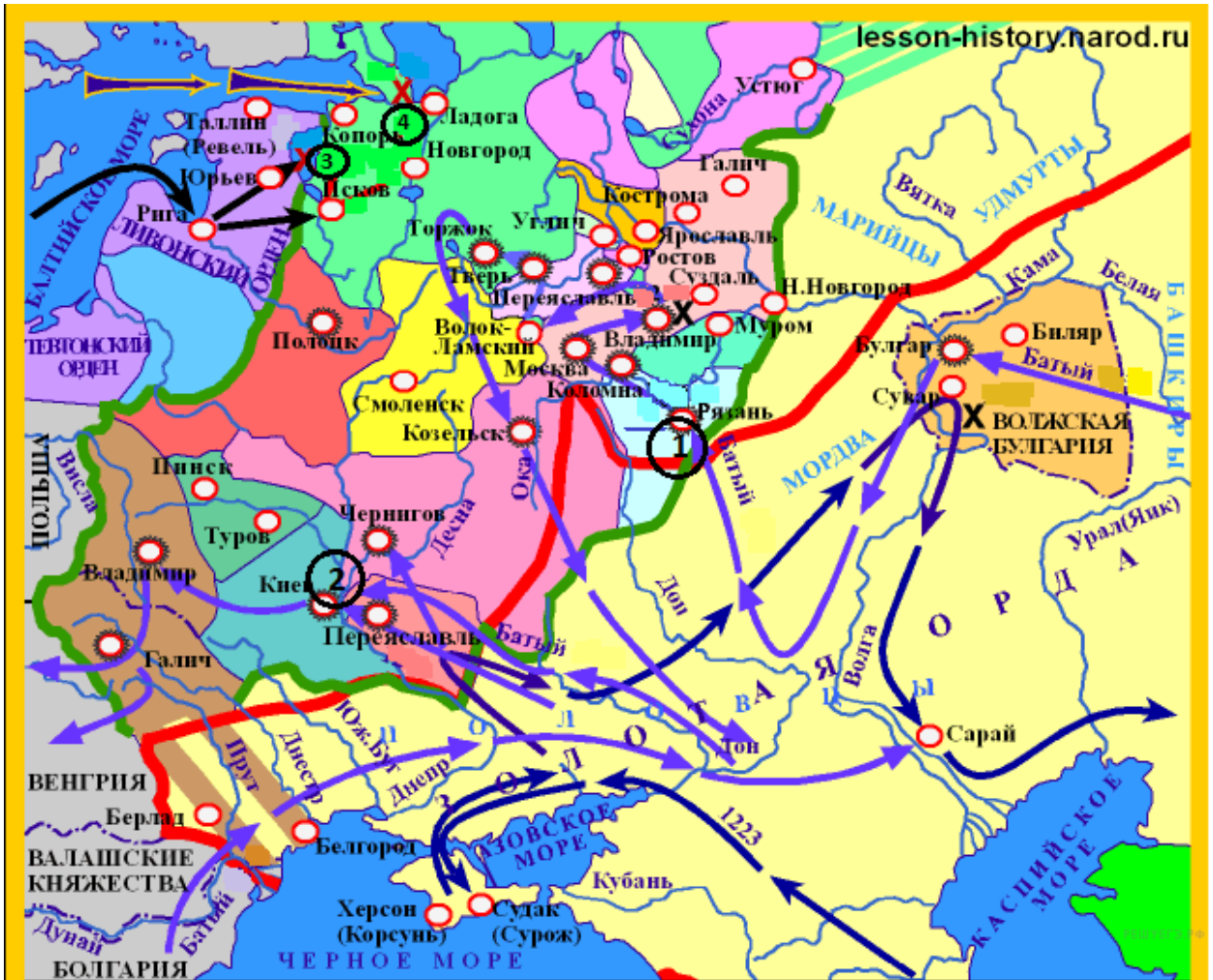
2. Напишите название государства, обозначенного на схеме цифрой «1»

3. Напишите название государства, обозначенного на схеме цифрой «2».

4. Какие суждения, относящиеся к походам князя, обозначенным на схеме, являются верными. Выберите три суждения из шести предложенных. Запишите в таблицу цифры, под которыми они указаны.

- 1) Киевский князь, чьи походы указаны на карте, разгромил и уничтожил Хазарский каганат
- 2) врагами Древнерусского государства на степных границах в первой половине X в. были половцы
- 3) во время одного из походов Киевский князь заложил город-крепость Корсунь
- 4) указанные на карте походы укрепили могущество Киевской Руси
- 5) Киевскому князю не удалось перенести столицу государства на Дунай
- 6) одновременно с завоеванием новых земель великий Киевский князь распространял христианство к востоку от Руси

Рассмотрите схему и выполните задание

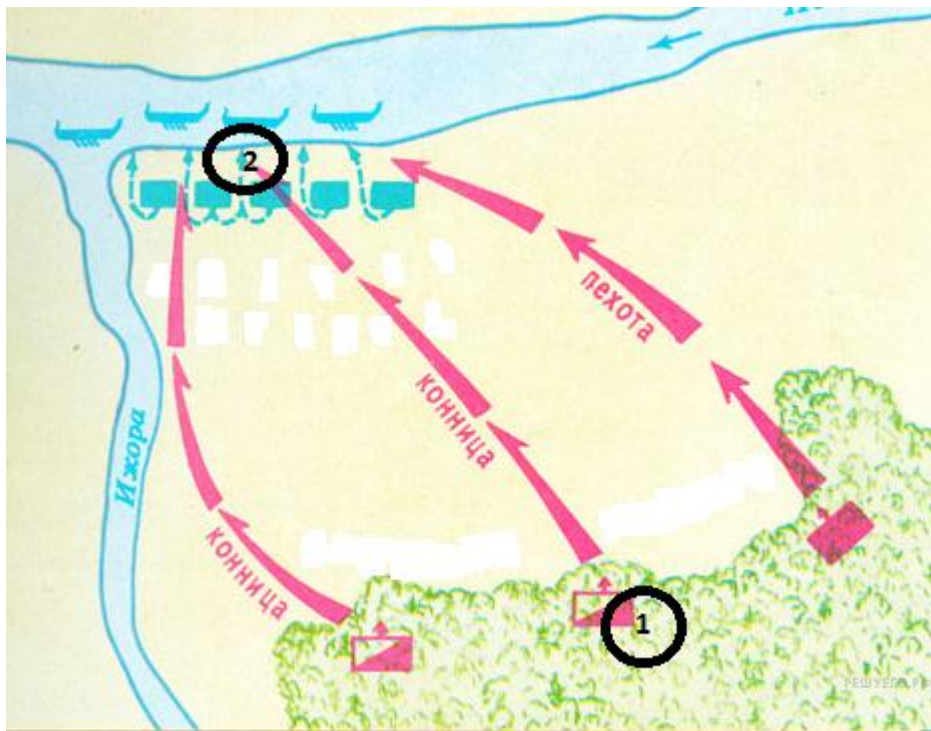


1. Напишите имя русского полководца XIII в., одержавшего победы над неприятелем в сражениях, отмеченных на карте цифрами «3» и «4».
2. Напишите цифру, которой обозначен город, который в XIII в. героически оборонял от захватчиков воевода боярин Дмитр (Дмитрий).
3. Напишите название реки, на которой в 1223 г. произошла первая встреча русских войск с отрядами монголо-татар.
4. Какие суждения, относящиеся к событиям, обозначенным на схеме стрелками, являются верными. Выберите три суждения из шести предложенных. Запишите в таблицу цифры, под которыми они указаны.
  - 1) первым русским городом, принявшим на себя удар монголо-татар под командованием хана Батые лето 1237 г., была Рязань
  - 2) после ухода монголо-татарского войска из разгромленной Рязани, захватчики подверглись нападению отряда под командованием рязанского боярина Евпатия Коловрата
  - 3) на территории Владимиро-Суздальского княжества монголо-татары потерпели своё первое поражения от войск князя Юрия Всеволодовича

- 4) город Псков сумел отстоять свою независимость в период вторжения рыцарей Ливонского ордена на русские земли в первой половине XIII в.
- 5) столицей образовавшейся Золотой Орды стал в 1243 г. город Сарай (Сарай-Бату)
- 6) сражение, отмеченное на карте цифрой «4» произошло в один год с героической обороной и падением Киева.

## №5

Рассмотрите схему и выполните задание



1. Напишите название битвы, представленной на схеме.
2. Напишите имя полководца, который командовал войском, отмеченном на схеме цифрой «1».
3. Назовите имя полководца, командовавшего войском, отмеченном на схеме цифрой «2».
4. Какие суждения, относящиеся к событию, обозначенному на схеме, являются верными. Выберите три суждения из шести предложенных. Запишите в таблицу цифры, под которыми они указаны.
  - 1) битва состоялась во время нашествия монголо-татар на юго-западные русские земли
  - 2) один из полководцев, участвовавший в битве, в последствие был канонизирован русской Церковью
  - 3) битва была примером междоусобных войн на Руси периода политической раздробленности
  - 4) в составе войска одной из сторон сражался отряд половцев
  - 5) результаты битвы имели большое значение для укрепления внешнеполитического авторитета Московского княжества
  - 6) земли, на которой состоялась битва, принадлежали Великому Новгороду

Рассмотрите схему и выполните задание



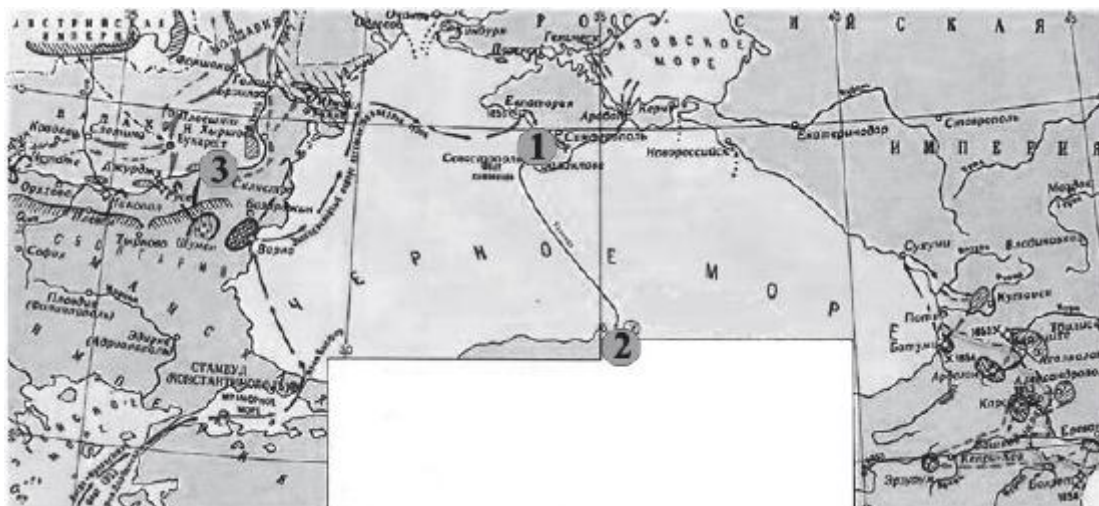
1. Напишите название битвы, представленной на схеме.
2. Напишите название реки, обозначенной на схеме цифрой «1»?
3. Назовите имя князя командовавшего действиями Засадного полка во время битвы. В ответе укажите только имя.
4. Какие суждения, относящиеся к событию, обозначенному на схеме, являются верными. Выберите три суждения из шести предложенных. Запишите в таблицу цифры, под которыми они указаны.
  - 1) в составе русских войск, участвовавших в битве, не было дружин из Рязанского княжества
  - 2) на стороне ордынцев в битве участвовали литовские полки под командованием князя Ягайло
  - 3) битва была крупнейшим сражением русских и ордынских сил начала XV в.
  - 4) вскоре после победы в битве русские земли освободились от ордынской зависимости
  - 5) результаты битвы имели большое значение для укрепления авторитета Москвы как политического центра объединения русских земель
  - 6) Московский князь Дмитрий Иванович сражался в пешем строю в доспехах простого воина

Рассмотрите схему и выполните задания.



1. Напишите название войны, события которой отражены на карте.
2. Напишите название города, защита которого погиб адмирал Нахимов.
3. Напишите цифру, которая обозначает «неофициальную столицу» государства после отъезда царя из Москвы.
4. Какие суждения, относящиеся к событиям, обозначенным на схеме, являются верными? Выберите три суждения из шести предложенных. Запишите в таблицу цифры, под которыми они указаны.
  - 1) Россия победила в этой войне.
  - 2) Во время войны правительство сняло ограничения на право перехода крестьян к другому хозяину.
  - 3) Противником России в войне была Швеция.
  - 4) Во время войны образовалось новое государство Речь Посполитая.
  - 5) В ходе войны произошло ужесточение внутренней политики.
  - 6) Война проходила в завершающий период образования единого Русского государства.

Рассмотрите схему и выполните задания.



1. Напишите название войны, изображённой на карте.
  2. Напишите цифру, которой обозначено место последнего сражения парусных флотов
  3. Какие суждения, относящиеся к событиям, обозначенным на схеме, являются верными? Выберите три суждения из шести предложенных. Запишите в таблицу цифры, под которыми они указаны.
- 1) Участником войны был адмирал Ф.Ф. Ушаков.
  - 2) Война завершилась подписанием Парижского мирного договора.
  - 3) Соперниками России в войне были Франция и Австрия.
  - 4) После войны в России наступила эпоха реформ.
  - 5) Россия получила право контроля над проливом Босфор.
  - 6) Во время войны в России произошла смена императоров

№9

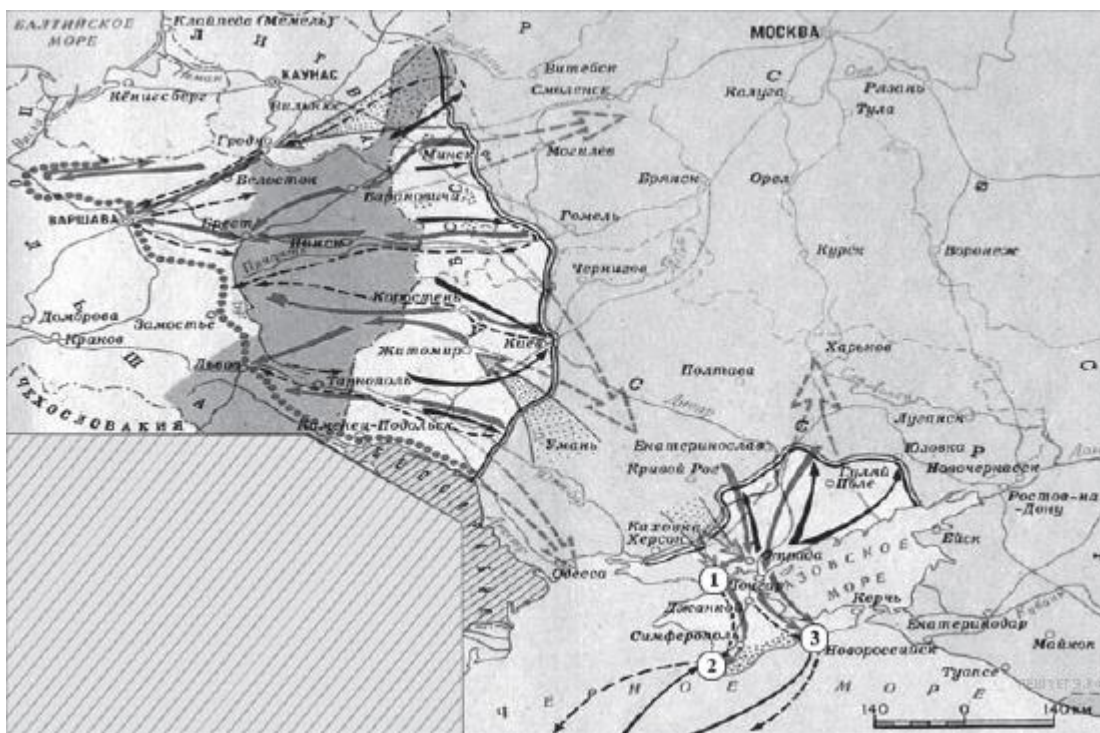
Рассмотрите схему и выполните задания.





1. Напишите название военного плана, изображённого на карте.
2. Напишите название города, обозначенного на схеме цифрой «4».
3. Напишите цифру, которой обозначен город, для захвата которого была разработана операция «Тайфун».
4. Выберите три суждения из шести предложенных. Запишите в таблицу цифры, под которыми они указаны.
  - 1) Карта относится к начальному этапу войны.
  - 2) Германия планировала завершить войну к концу лета 1942 г.
  - 3) Для отражения агрессии, обозначенной на карте, был создан Совет труда и обороны.
  - 4) Руководителем страны в это время был И.В. Сталин.
  - 5) Сражение под Смоленском стало важным этапом в срыве фашистской стратегии «блицкрига».
  - 6) Наступление немецких войск было остановлено по всей линии фронта зимой 1941 г.

Рассмотрите схему и выполните задания.



1. Напишите название периода отечественной истории, события которого изображены на карте.
2. Напишите фамилию генерала, который руководил боевыми действиями на юге против Советской России.
3. Цифрой «1» на карте обозначено место проведения решающей военной операции Красной армии на юге. Напишите его название.
4. Какие суждения, относящиеся к событиям, обозначенным на карте, являются верными? Выберите три суждения из шести предложенных. Запишите в таблицу цифры, под которыми они указаны.

- 1) На карте изображены события завершающего этапа войны.
- 2) Красной армии оказывали помощь союзники по Первой мировой войне.
- 3) К периоду войны, обозначенному на карте, относится переход через залив Сиваш.
- 4) На западе Красная армия воюет против войск генерала Н. Юденича.
- 5) Война завершилась подписанием Брестского мира.
- 6) Войсками Красной армии на юге командовал М.В. Фрунзе.